

Постав дужки,  
щоб рівності були правильними

$$6 \cdot 4 - 2 = 12$$

$$31 - 10 - 3 = 24$$

$$6 - 2 \cdot 3 = 12$$

$$40 - 15 : 5 = 5$$

$$12 : 2 - 2 = 3$$

$$16 : 4 : 2 = 8$$



# Котру годину показує кожен годинник?



\_\_\_ ГОД \_\_\_ ХВ



\_\_\_ ГОД \_\_\_ ХВ




\_\_\_ ГОД \_\_\_ ХВ

**Почав  
виконувати**




**Закінчив виконувати  
через 20 хвилин**



**Яблук – 2 кг**

**Груш - ?, у 6 раз більше** ←

**Слив - ?, на 3 кг менше**




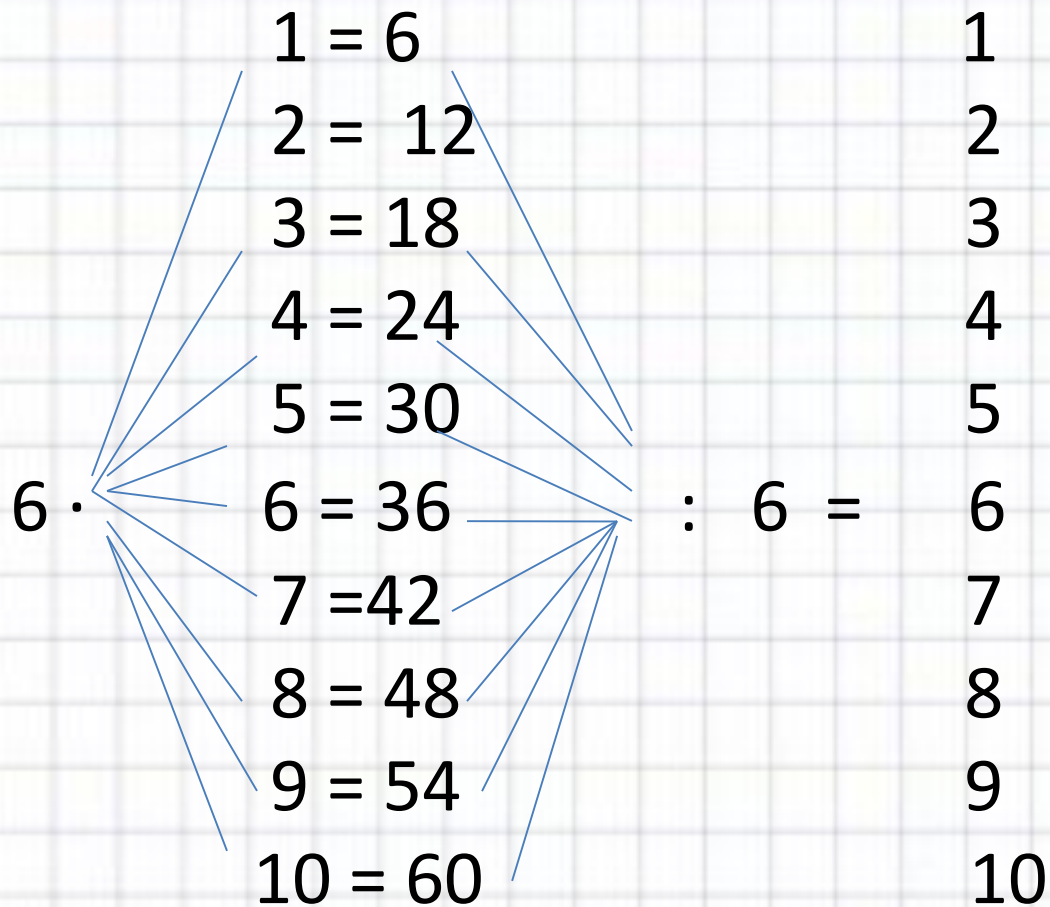
$$4 \cdot 5 = 20$$

$$6 \cdot 4 = 24$$

$$3 \cdot 8 = 24$$

$$42 : 6 = 7$$





Купили - 24 грн - 4 ігр. - по 6 грн

$$6 \cdot 4$$

$$24 : 6$$

$$24 : 4$$





Успіхів у роботі!





$6 \times 2$

$6 \times 6$

$6 \times 3$

$6 \times 7$

$6 \times 4$

$6 \times 8$

$6 \times 5$

$6 \times 9$



$$6 * \text{tractor} = 48$$

$$\text{train} * 4 = 24$$

$$\text{airplane} * 6 = 18$$

$$6 * 9 = \text{car with people}$$

$$6 * 6 = \text{truck}$$

$$\text{bird} * 1 = 6$$

$$\text{spaceship} * 6 = 12$$

$$30 : 5 = \text{purple car}$$

$$6 * 5 = \text{robot}$$

$$32 : 4 = \text{orange car}$$



$$100 - 36 : 4 = 91$$

$$(85 - 65) : 5 = 4$$

$$6 \cdot 8 + 36 = 84$$

$$80 - 6 \cdot 4 = 56$$

$$100 - 45 : 5 = 91$$

$$(60 - 24) : 4 = 9$$

$$6 \cdot 6 + 56 = 92$$

$$90 - 6 \cdot 4 = 66$$

Карлсон – 18 ватр.

Малюк - ?, у 3 рази менше

Фрекен Бок - ?, у 2 рази більше



Банани – 4 кг

Яблука - ?, на 28кг більше

Чорнослив - ?, в 4 рази менше

1)

2)

Відповідь:



12

6

# Одиниці вимірювання часу.

**Рік**

**Місяць**


**Тиждень**


**Доба**

**Година**

**Хвилина**

**Секунда**






12:00









a)




б)




в)




г)




a)



б)



в)



г)

